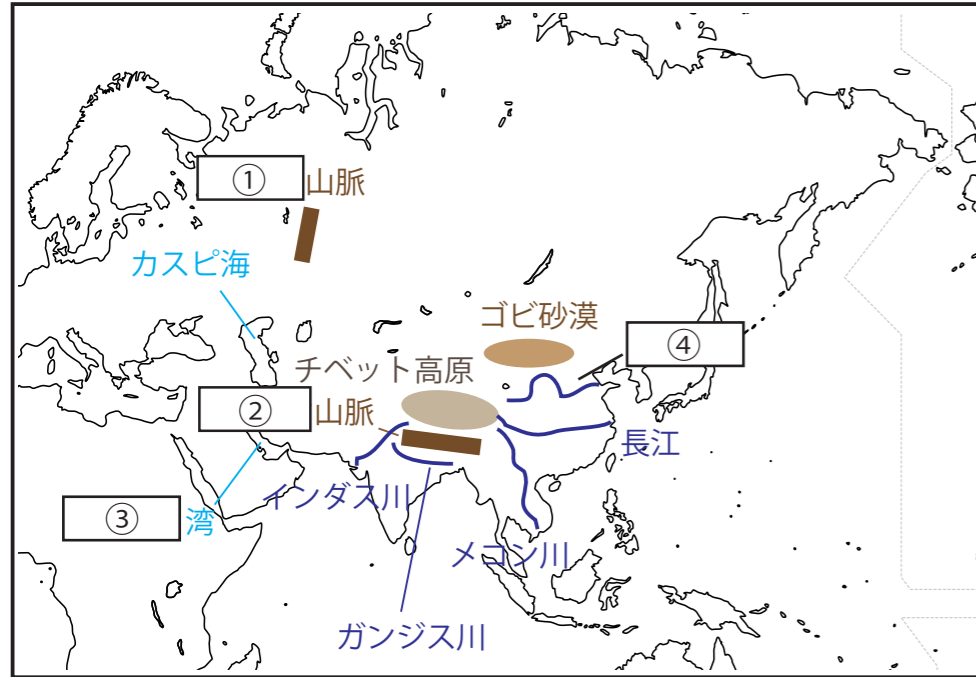
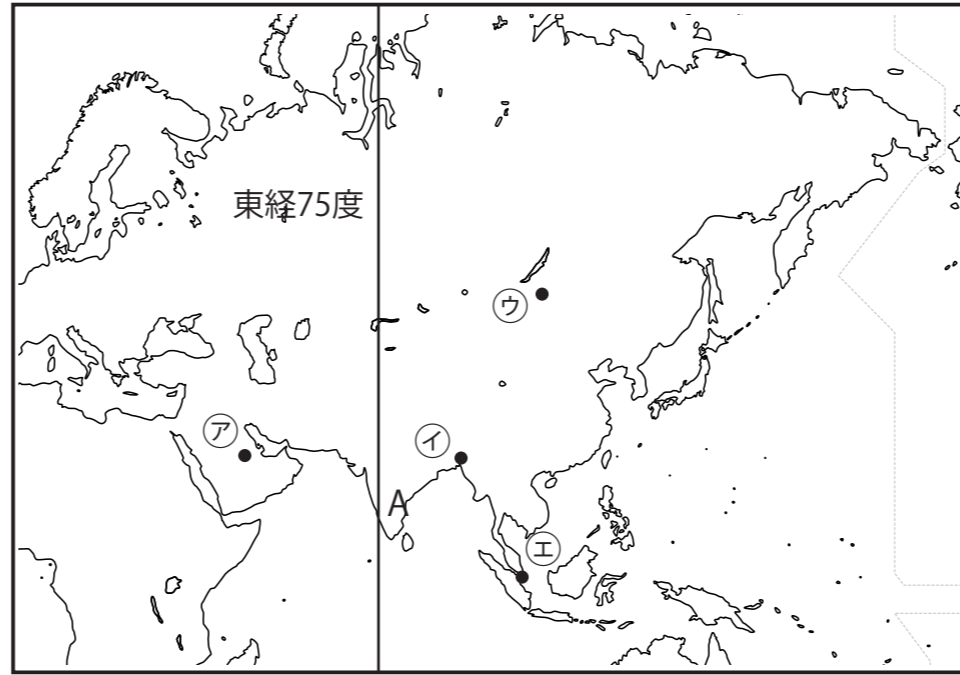


中1 社会 2 学期定期テスト予想問題

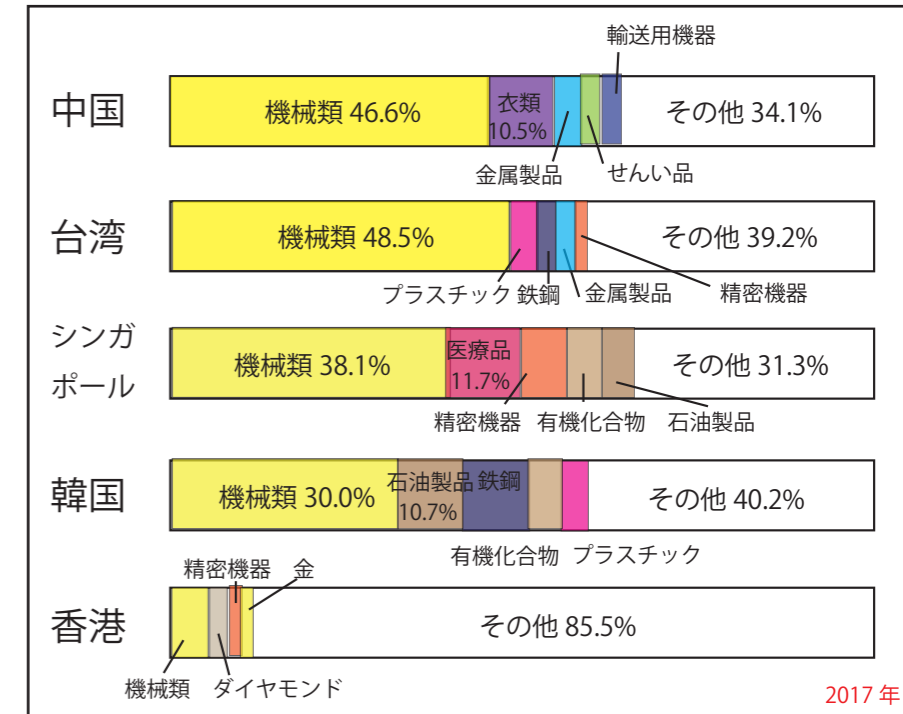
1 アジア州について下の問題に答えましょう



下の地図をみて答えましょう



下のグラフは主な国（地域）別日本への輸出品を表したものである。



①地図中の①②の山脈名と③の湾名、④の河川名を答えましょう

① ② ③ ④

<各1点>

②上の③の湾沿岸で多く産出される鉱山資源は何か？

またこの資源を産出する国で設立された産油国の組織をアルファベットで答えましょう。

資源名 組織名 <各1点>

③中国の民族で 90%をしめる民族を何族というか？ <1点>

下の表はある農産物の生産量の上位五カ国である

- 1位 中国
- 2位 インド
- 3位 バングラディシュ
- 4位 インドネシア
- 5位 ベトナム

④この農産物は何か書きましょう

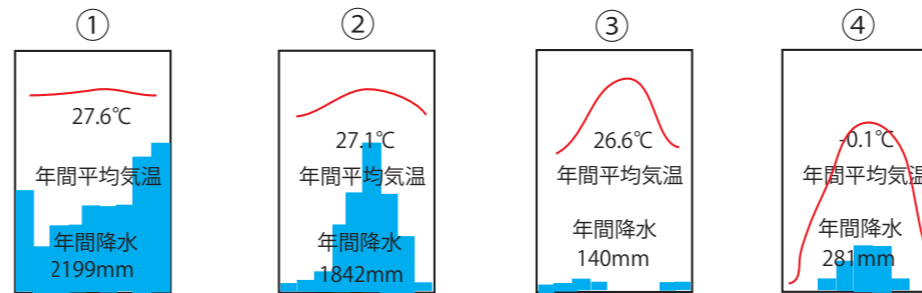
<1点>

⑤アジアの地域に雨をもたらす風を何というか？

<1点>

⑥この農産物の二期作がさかんに行われているが二期作とはどのようなものか簡単に説明しましょう

<2点>



⑦上の雨温図①～④は地図上の⑦～⑫のどの地域のものか選びましょう

① ② ③ ④

<各1点>

⑧西アジアの気候帯の地域で見られる遊牧とはどのような牧畜か簡単に説明しましょう

<2点>

⑨アメリカのシリコンバレー（西経 120°）のある企業は地図中 A の国の企業と連携しているがその利点を時差に着目して簡単に答えましょう

<2点>

⑩グラフにある中国以外の国や地域を合わせてなんというか？

<1点>

⑪問題⑩はどのような特徴をもった国や地域のことが簡単に説明しましょう

<2点>

⑫1990年代以降ハイテク産業が成長した韓国だが、この国の首都はどこか？

<1点>

⑬韓国ではなんという文字が用いられているか？

<1点>