

中3社会1学期定期テスト予想問題

1 資料を見て次の問題に答えましょう

A

満6歳になった男女をすべて小学校に通わせることが義務となった

B

満20歳になった男子は、士族と平民の区別なく兵役の義務を負うことになった

C

収穫高ではなく地価の3%を現金で納めることになった

資料1

越後国岩手村五百三十四番
一田五畝五歩 持主 佐藤○○
地 壹拾六円八拾○○
此百分ノ三金 ○○ 地租
明治十年ヨリ ○○ 地租
此百分ノニヶ半金○○地租
右検査ノ上授興之
明治○○年

① A、B、Cが表している政府の政策や制度の名前を書きましょう。

A B C <各1点>

② Cの政策の目的はなにか簡単に説明しましょう。

<2点>

③ Cの政策の後1877年地租は3%から何%に引き下げられたか？

<1点>


④ Aの政策の前の年に行われた藩を廃止して県を置いた政策をなんというか？

<1点>

2 資料を見て次の問題に答えましょう

① 資料1は1872年につくられた官営模範工場である。その名前を答えましょう。またここで主に作られたものは何か書きましょう。

資料1



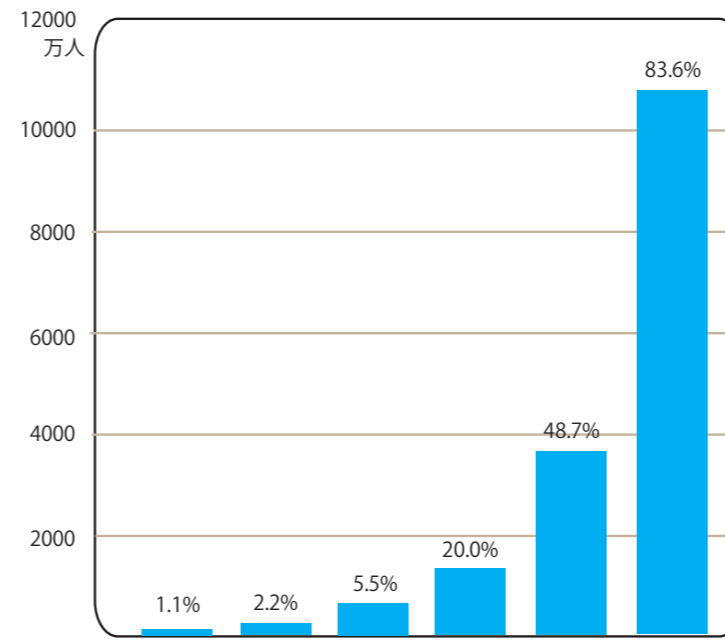
名前 つくられたもの <各1点>

② この頃に行われた欧米諸国に対抗するため経済を発展させ国力をつけ軍隊を強くすることを旨とした政策をなんというか？漢字4文字で書きましょう

<2点>

3 グラフや資料をみて下の問題に答えましょう

グラフ



法改正年 1889年 1900年 1919年 1925年 1945年 2015年
実施年 1890年 1902年 1920年 1928年 1946年 2016年

資料1

第一条 大日本帝国憲法ハ万世一系ノ天皇之ヲ統治ス
第二十条 日本臣民ハ法律ノ範囲内ニ於テ...

① グラフはある年代ごとの有権者の数を表したものである。1928年の選挙ではその前の選挙に比べ有権者数は4倍近くになっている。その理由を簡単に説明しましょう

<2点>

② 資料1にある大日本帝国憲法について下の文章の□にあてはまる語句をそれぞれ答えましょう

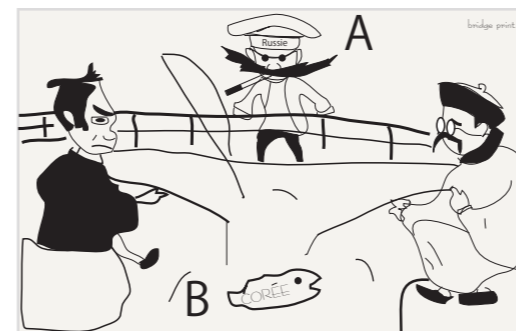
・大日本帝国憲法では主権は A とされた

・大日本帝国憲法で国民の権利や自由は B の範囲内で認められていた

A B <各1点>

4 資料を見て日清戦争、日露戦争について答えましょう

資料1



資料2



① 資料1のA、Bが表す国をそれぞれ書きましょう

A B <各1点>

② 1894年に起きた日清戦争のおこるきっかけとなったできごと戦争を答えましょう。

<1点>

③ 日清戦争後に結ばれた講和条約は何か？ <1点>

④ 資料2のC、Dが表す国をそれぞれ書きましょう
C D <各1点>

⑤ 日露戦争後国民が政府を攻撃した理由を書きましょう。
 <2点>