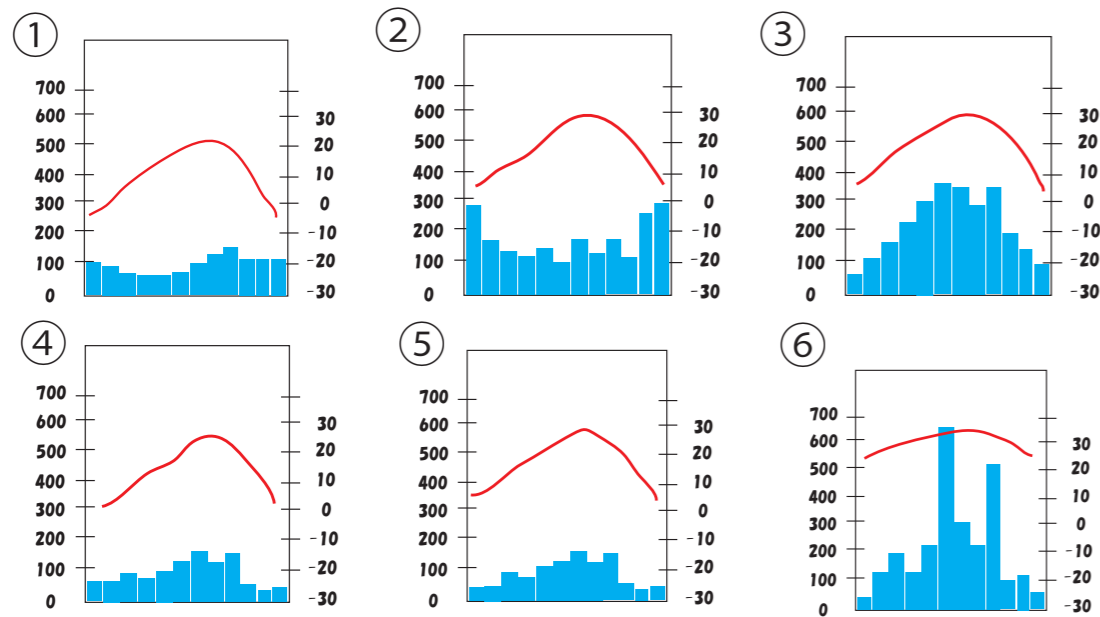
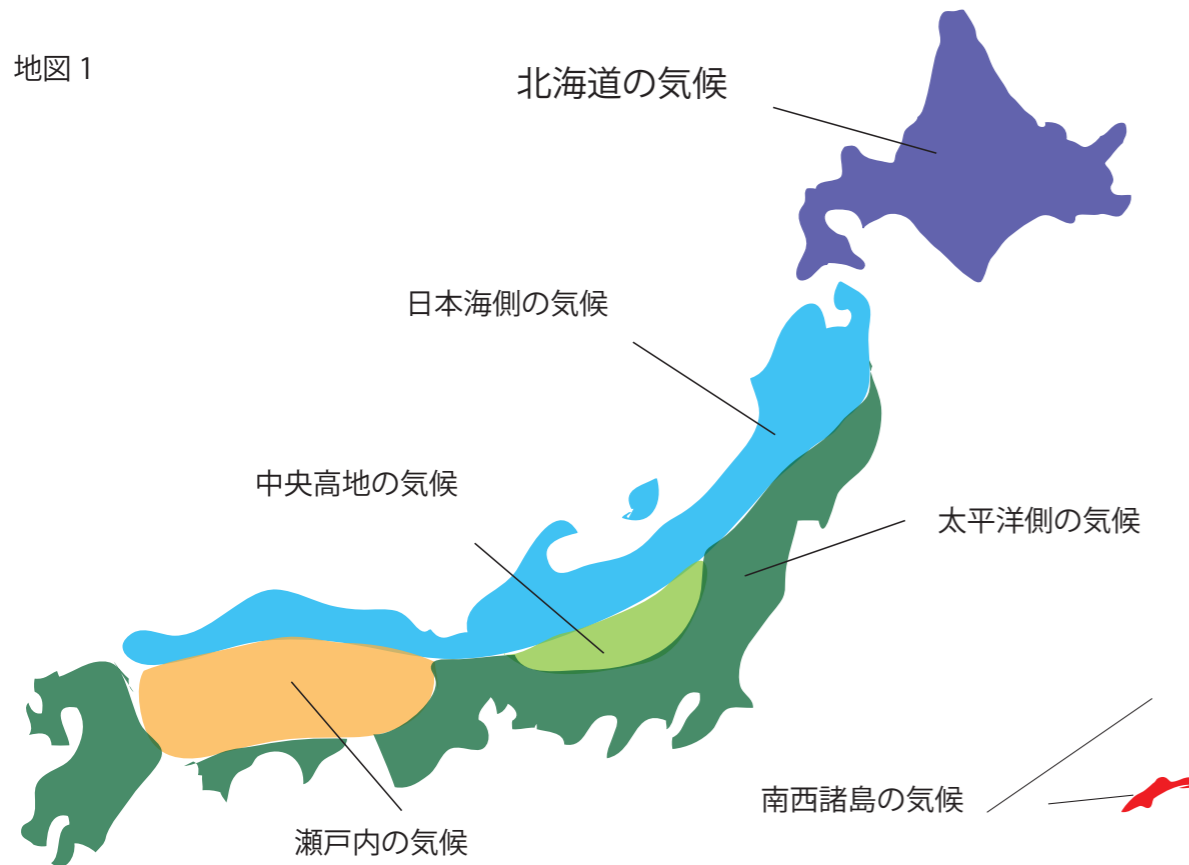


中2社会1学期定期テスト予想問題その②

3 下の地図について答えましょう

地図1



①上の雨温図は地図1のいずれかのものである。それぞれどの気候の雨温図であるか番号で答えましょう。

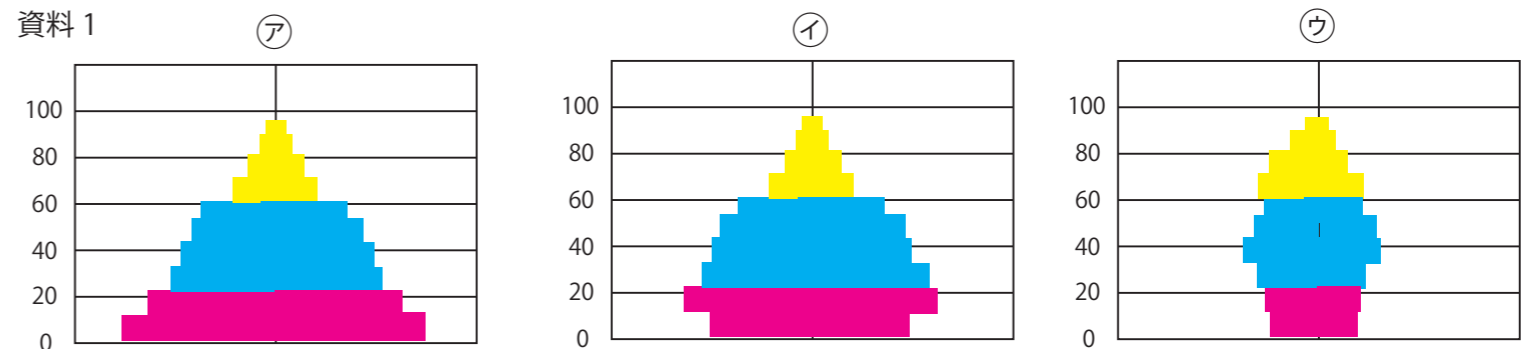
- 北海道の気候 中央高地の気候 瀬戸内の気候
 日本海側の気候 太平洋側の気候 南西諸島の気候
 <各1点>

4 自然災害と防災について以下の問題に答えましょう

- ①海底で大きな地震が起きた時に沿岸部でおこるおそれがある東日本大震災でも大きな被害を出した災害は何か？ <1点>
 ②災害に向けて被害予測と避難場所などを掲載した地図のことをなんというか？ <1点>
 ③北日本などでおこる夏の低温で農作物の生育不良がおこる災害をなんというか？ <1点>
 ④大雨などによっておこされる土砂などが水に流れておこる災害をなんというか？ <1点>

5 日本の人口について以下の問題に答えましょう

資料1



①資料1は人口ピラミッドを表したものであるが現在の日本の人口ピラミッドはどれかア～ウの中からえらび記号でこたえましょう。またそれは何型とよばれているか書きましょう。

記号 型の名前 <各1点>

③都市部にみられる人口が集中しすぎることを何というか？ <1点>

③大都市にみられるドーナツ化現象とはなにか簡単に説明しましょう？

<2点>

④離島や山間部でみられる人口の流出により地域の生活が成り立たなくなる状態をなんというか？ <1点>

6 エネルギーについて以下の問題に答えましょう

①石油や石炭などを燃やして行う発電をなんというか？ <1点>

②石油や石炭などを燃やして行う①の発電の問題点は何か？ <2点>

③太陽光や風力などの繰り返し使えるエネルギーをなんというか？ <1点>

④工場や家庭でのごみを減らすために行われているのはリユース・リデュースともう一つは何か？ <1点>