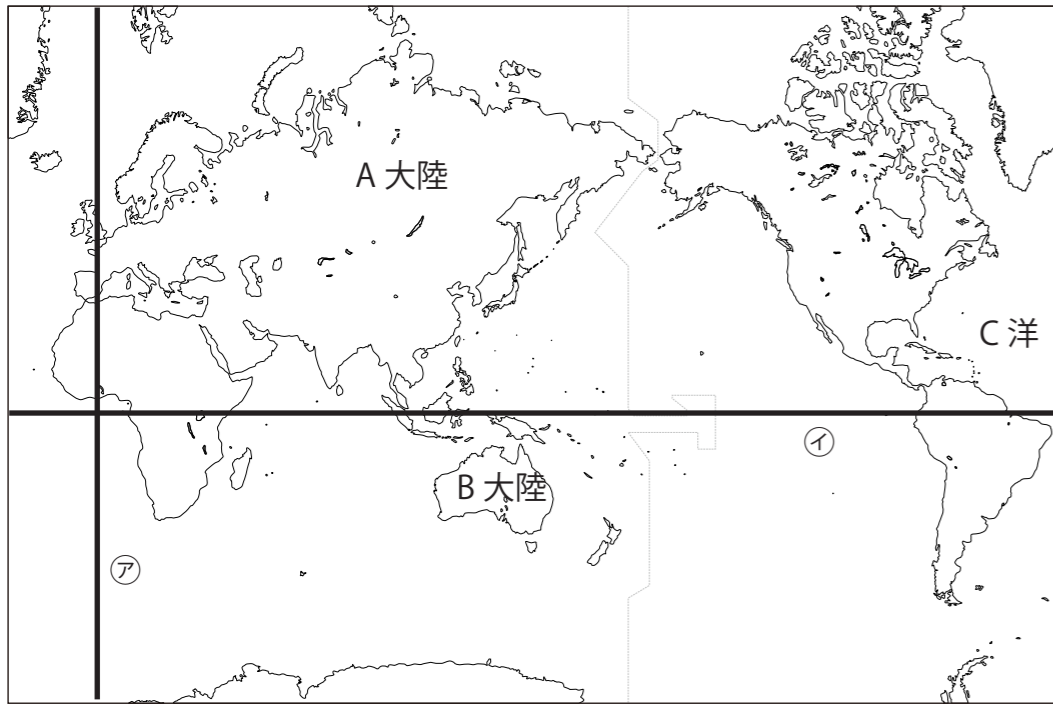


中1社会1学期定期テスト予想問題

1 下の地図について答えましょう



①地図中のA・Bの大陸名とCの海洋名をこたえましょう

A B C

②Aの大陸は2つの州に分けられる。何州と何州に分けられるか？ <各1点>

と <各1点>

③図の線ア（0度の経線）と線イ（0度の緯線）を何というか？

ア イ <各1点>

④線アが通る都市はどこか下のの中から記号で選びましょう

- A.ロンドン B.パリ C.北京 D.ニューヨーク

<1点>

⑤線イが通る国はどこか下のの中から記号で選びましょう

- A.ニュージーランド B.エクアドル C.ロシア D.エジプト

<1点>

⑥まわりを海に囲まれている国を何というか？

<1点>

⑦海に面していない国を何というか？

<1点>

⑧ ⑦である国名を1つかきましょう

<1点>

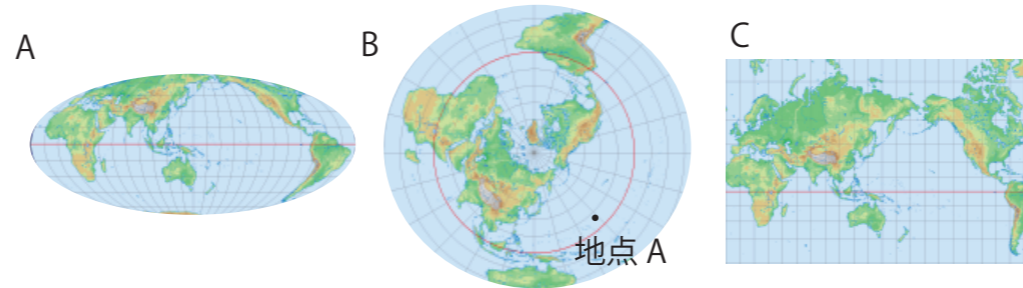
⑨ アフリカには国境線がまっすぐな国が多いがその理由を書きましょう

<2点>

⑩ ある地点から地球の中心に引いた線をのばして反対側にあたった地点をなんというか？

<1点>

2 下の地図について答えましょう



①A・B・Cの地図の特徴にあてはまるものをア～ウの中からそれぞれ選びましょう。

ア 中心からの距離と方位が正確である

イ 緯線と経線が直角に交わる

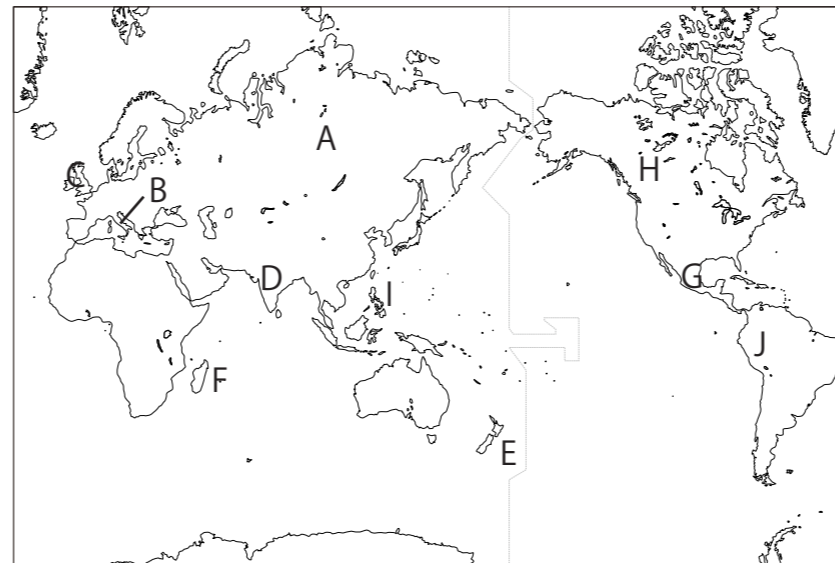
ウ 面積が正確である

A B C <各1点>

②地点Aは中心から見てどの方位になるか？

8方位の中から答えましょう。 <1点>

3 国の名前について下の問題に答えましょう

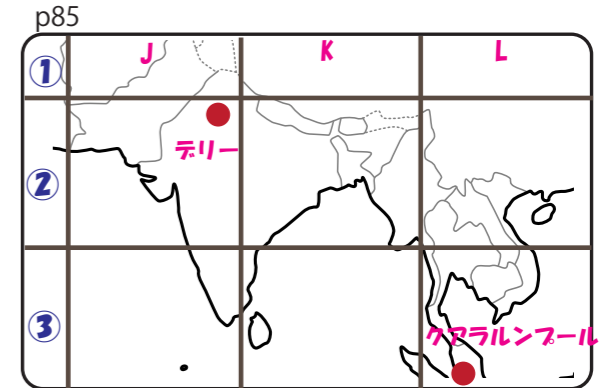
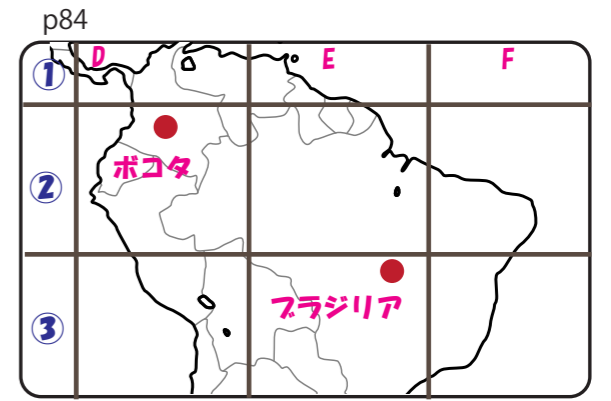
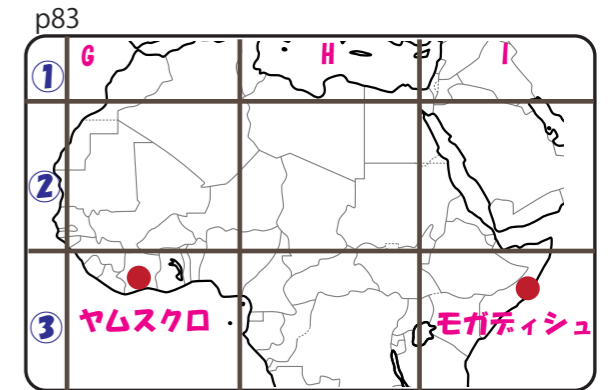
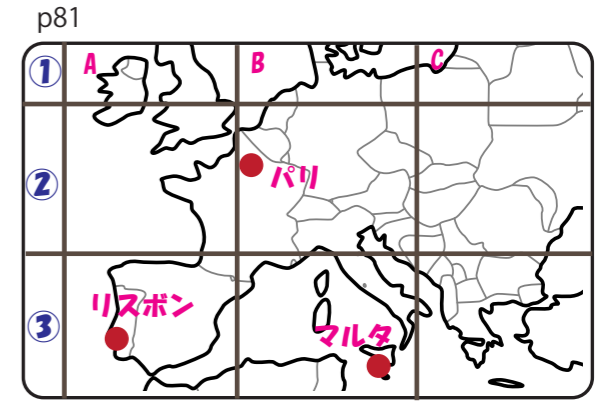


次の文が表す国名とその位置を地図中のA～Iの中から選びましょう

| | 記号 | 国名 |
|-----------------|----------------------|----------------------|
| ① 世界で一番面積の大きい国 | <input type="text"/> | <input type="text"/> |
| ② 世界で一番面積の小さい国 | <input type="text"/> | <input type="text"/> |
| ③ ユニオンジャックの国旗の国 | <input type="text"/> | <input type="text"/> |
| ④ オセアニア州の島国 | <input type="text"/> | <input type="text"/> |

<両方できて各1点>

4 地図帳について下の問題に答えましょう



次の記号が表している都市を答えましょう

ア 84 D ② N イ 81 B ② N
 ウ 83 G ③ N エ 85 L ③ S

<各1点>