

中1社会1学期定期テスト予想問題その②

5 日本について下の問題に答えましょう

①日本が5月12日午前11時の時エジプトのカイロ(東経30°)、ナウル(東経165°)はそれぞれ何月何日何時になるでしょう?

カイロ 日本は東経135°カイロは30°なので差は135-30=105°。よって時差は105÷15=7時間となる。日本のほうが早いのでカイロは5月12日午前4時となる。 ナウル ナウルは東経165度なので差は165-135=30°。よって時差は30÷15=2時間となる。ナウルのほうが時間が早いのでナウルは5月12日午後1時となる。

<各2点>

②日本と同じ緯度の国を下の中から選びましょう?

ア エジプト イ アルゼンチン ウ スペイン エ フィリピン

ウ <1点>

③地図中にある県の県庁所在地をそれぞれ答えましょう



① 宇都宮市 ② 水戸市 ③ 横浜市 ④ 名古屋市

⑤ 津市 ⑥ 金沢市 ⑦ 神戸市 <各1点>

6 世界の気候について下の問題に答えましょう

次の気候帯名を□の中から選びましょう

①年中寒さが厳しく夏にわずかにコケがはえる地域もある

寒帯

②温暖で四季の変化がはっきりしている。

温帯

③降水量がきわめて少ない。砂漠やたけの短い草原が広がる

乾燥帯

④冬の寒さがきびしく針葉樹の森林が広がる

冷帯

⑤年中高温で降水量が多い

熱帯

<各1点>

寒帯

冷帯 (亜寒帯)

乾燥帯

温帯

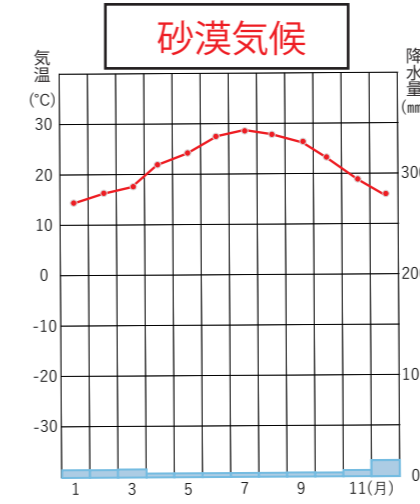
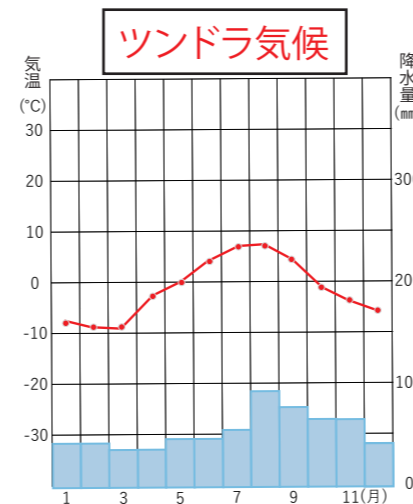
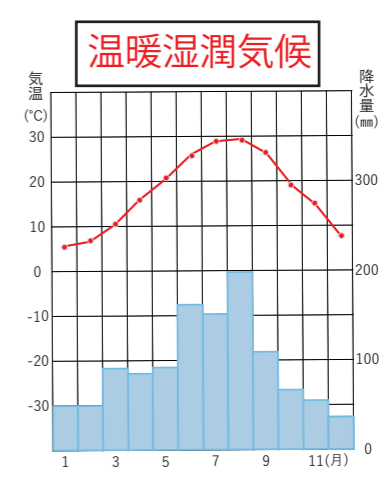
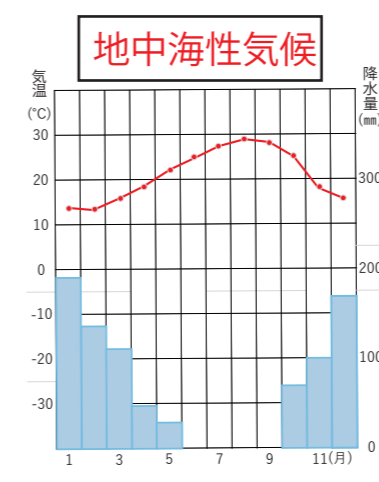
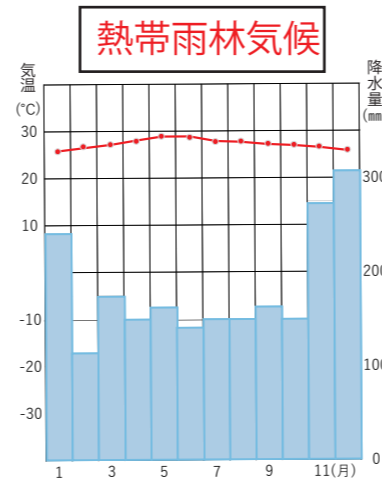
熱帯

⑥上記の②の気候帯において日本の大部分の地域があてはまる気候区分は下のうちどれか?

ア 地中海性気候 イ 温暖湿潤気候 ウ 西岸海洋性気候

イ <1点>

⑦下の気候図はどの気候帯のものか□の中から選びましょう



ツンドラ気候

地中海性気候

温暖湿潤気候

砂漠気候気候

熱帯雨林気候

<1点>