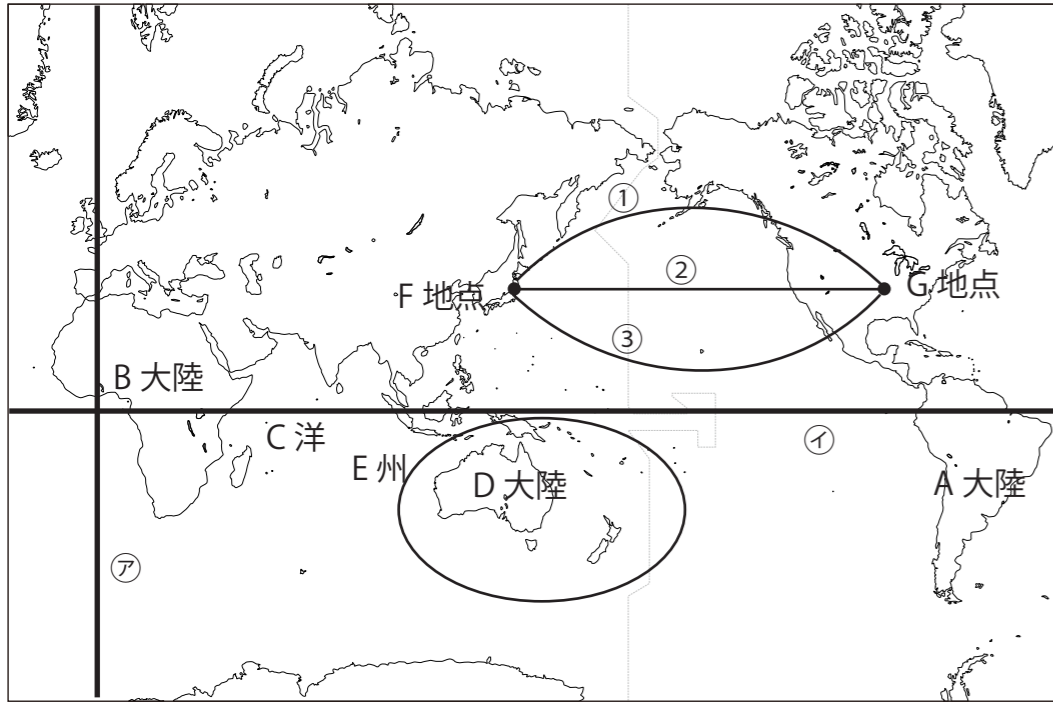


中1社会1学期定期テスト予想問題

1 下の地図について答えましょう



①地図中のA・Bの大陸名とCの海洋名をこたえましょう

A B C <各1点>

②Dの大陸とEの州の名前をこたえましょう

<各1点>

③図の線⑦に平行な経度を表す線と①に平行な緯度を表す線を何というか？

経度を表す線 緯度を表す線 <各1点>

④線⑦が通る都市はどこか下のの中から記号で選びましょう

A.東京 B.ロンドン C.北京 D.モスクワ <1点>

⑤線①が通る国はどこか下のの中から記号で選びましょう

A.サウジアラビア B.スウェーデン C.エクアドル D.スペイン <1点>

⑥図のF地点からG地点に行く最短距離は①～③のうちどれか？

<1点>

⑦まわりを海に囲まれている国を何というか？

<1点>

⑧ ⑦である国名を1つかきましょう

<1点>

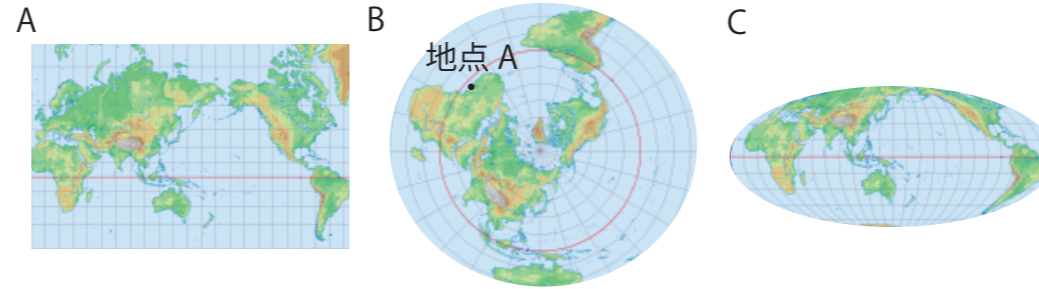
⑨ アフリカには国境線がまっすぐな国が多いがその理由を書きましょう

<2点>

⑩ 地球の陸と海の割合は何：何か

<1点>

2 下の地図について答えましょう



①A・B・Cの地図の特徴にあてはまるものをア～ウの中からそれぞれ選びましょう。

ア 中心からの距離と方位が正確である

イ 緯線と経線が直角に交わる

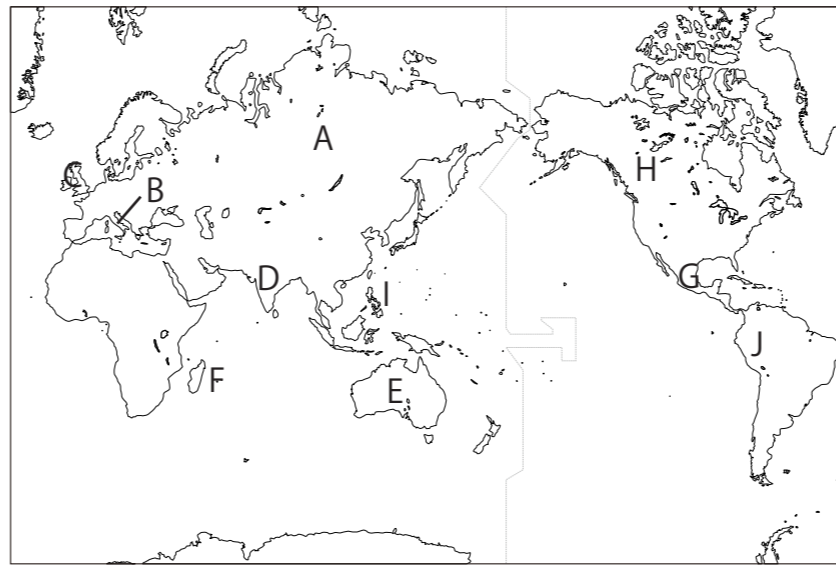
ウ 面積が正確である

A B C <各1点>

②地点Aは中心から見てどの方位になるか？

8方位の中から答えましょう。 <1点>

3 国の名前について下の問題に答えましょう

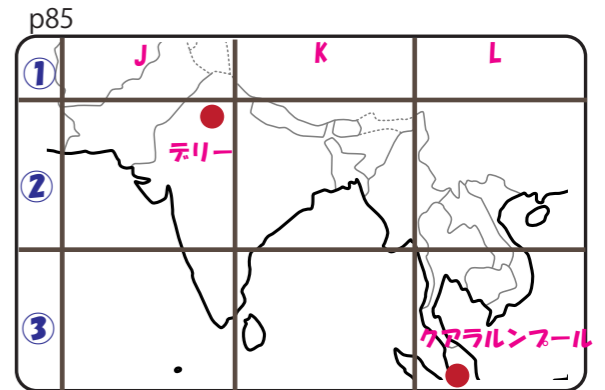
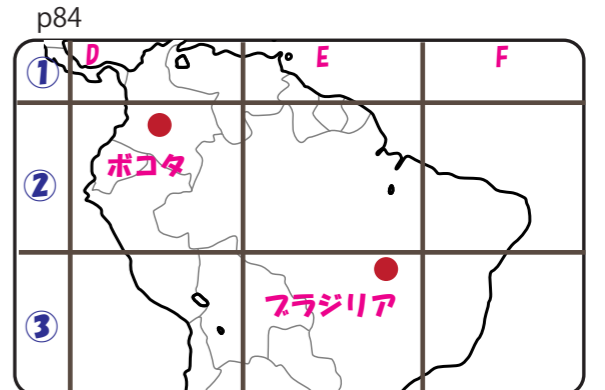
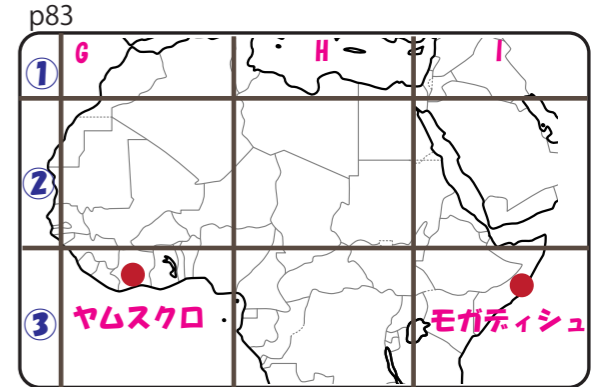
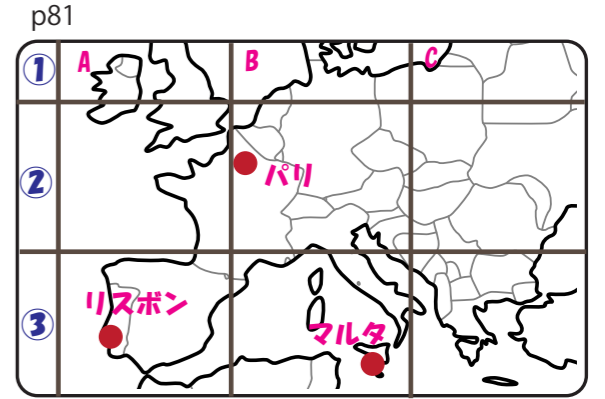


次の文が表す国名とその位置を地図中のA～Iの中から選びましょう

	記号	国名
① 世界で一番人口の多い国	<input type="text"/>	<input type="text"/>
② アフリカ州の東にある島国	<input type="text"/>	<input type="text"/>
③ 長くつに似た形をした国	<input type="text"/>	<input type="text"/>
④ スペインの皇太子フェリペに由来する国名の国	<input type="text"/>	<input type="text"/>

<両方できて各1点>

4 地図帳について下の問題に答えましょう



次の記号が表している都市を答えましょう

ア 84 E ③ N イ 81 B ③ S
 ウ 83 I ③ N エ 85 J ② N

<各1点>