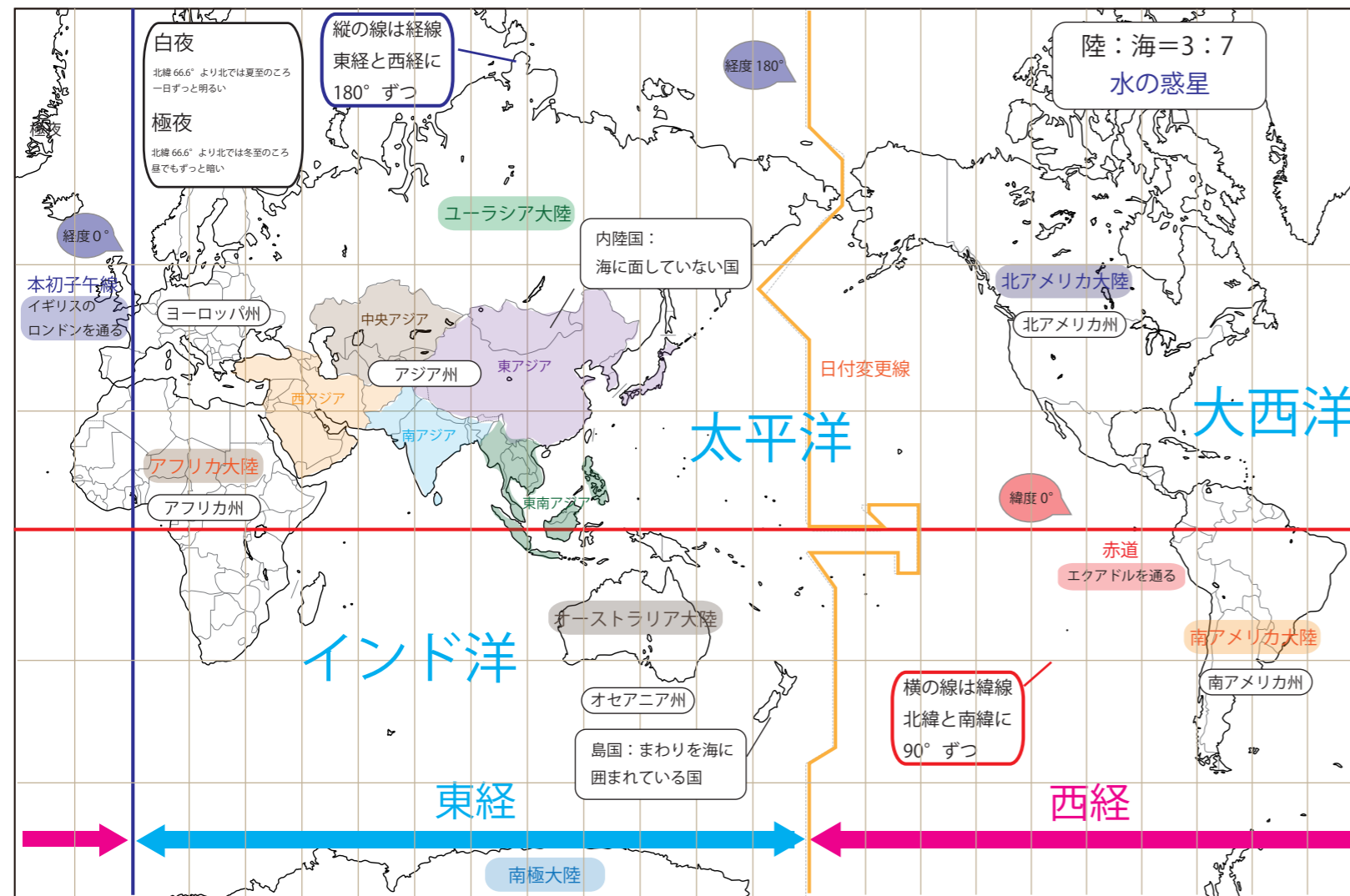
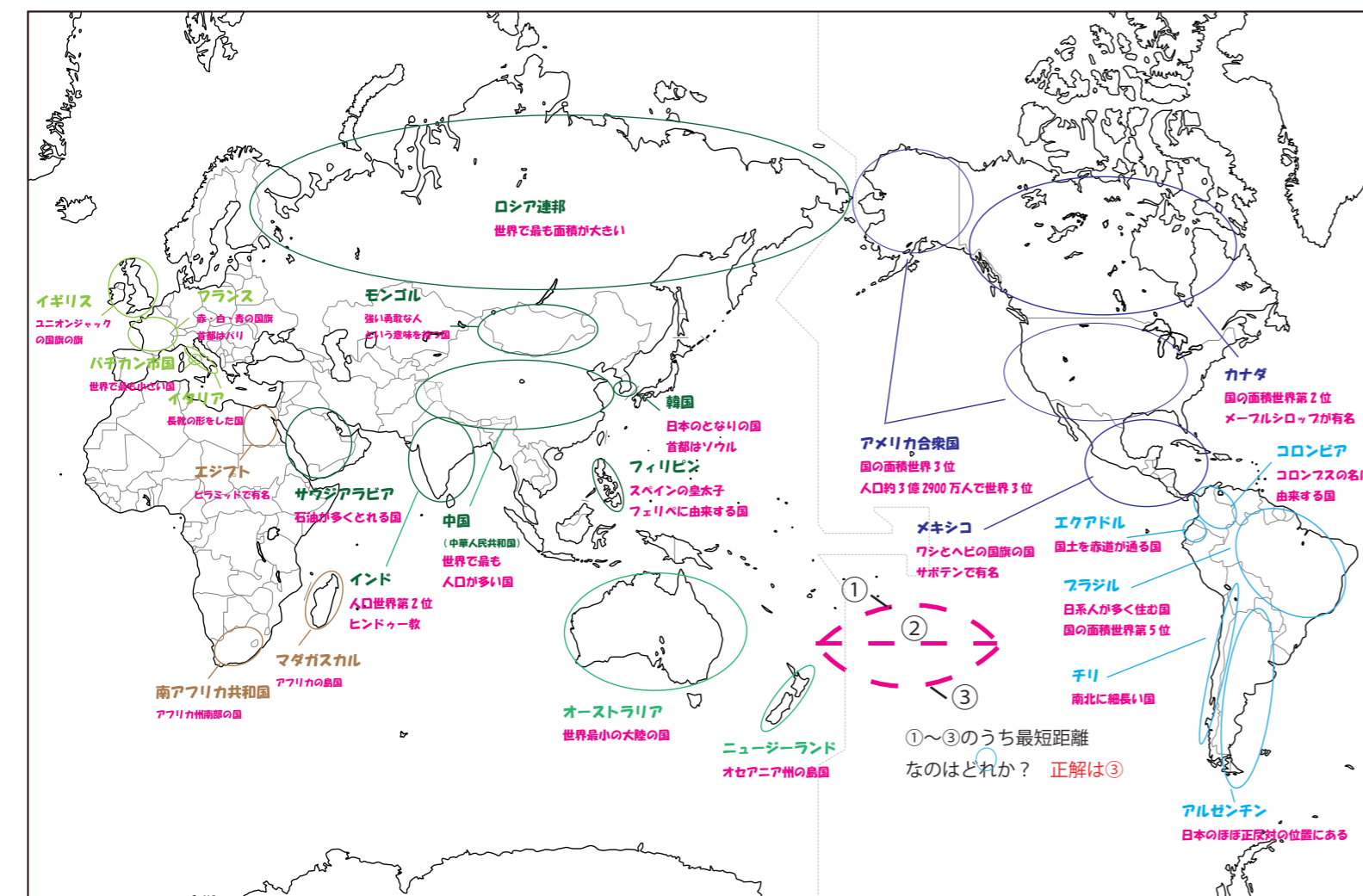


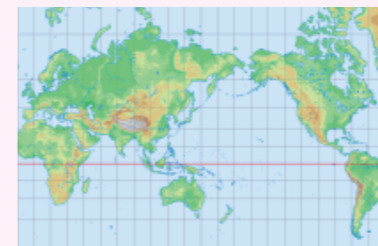
大陸・州・海洋まとめ



国名まとめ



世界地図の図法

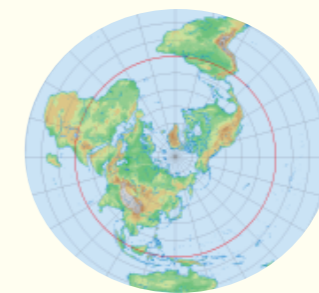


メルカトル図法

経線と緯線が垂直に
まじわっている。

角度が正しい地図。

航海図に利用



正距方位図法

中心から離れるほど
ゆがんで表される

中心からの距離と方位
が正しい地図。

航空図に利用



モルワイデ図法

赤道から離れるほど
ゆがんで表される

面積が正しい地図。

分布図に利用

一問一答

- ①地球上の陸と海の割合は何対何か？ 3：7
- ②世界最大の大陸を何というか？ ユーラシア大陸
- ③世界最小の大陸を何というか？ オーストラリア大陸
- ④3つの海洋のうち一番大きいものは何か？ 太平洋
- ⑤まわりを海に囲まれている国を何というか？ 島国
- ⑥海に面していない国を何というか？ 内陸国
- ⑦緯度 0° の線を何というか？ 赤道
- ⑧緯度は⑧を中心に南北にそれぞれ何度に分かれているか？ 90°
- ⑨経度 0° の線を何というか？ 本初子午線
- ⑩緯度は⑩を中心に東西にそれぞれ何度に分かれているか？ 180°
- ⑪同じ緯度を結んだ線を何というか？ 緯線
- ⑫同じ経度を結んだ線を何というか？ 経線