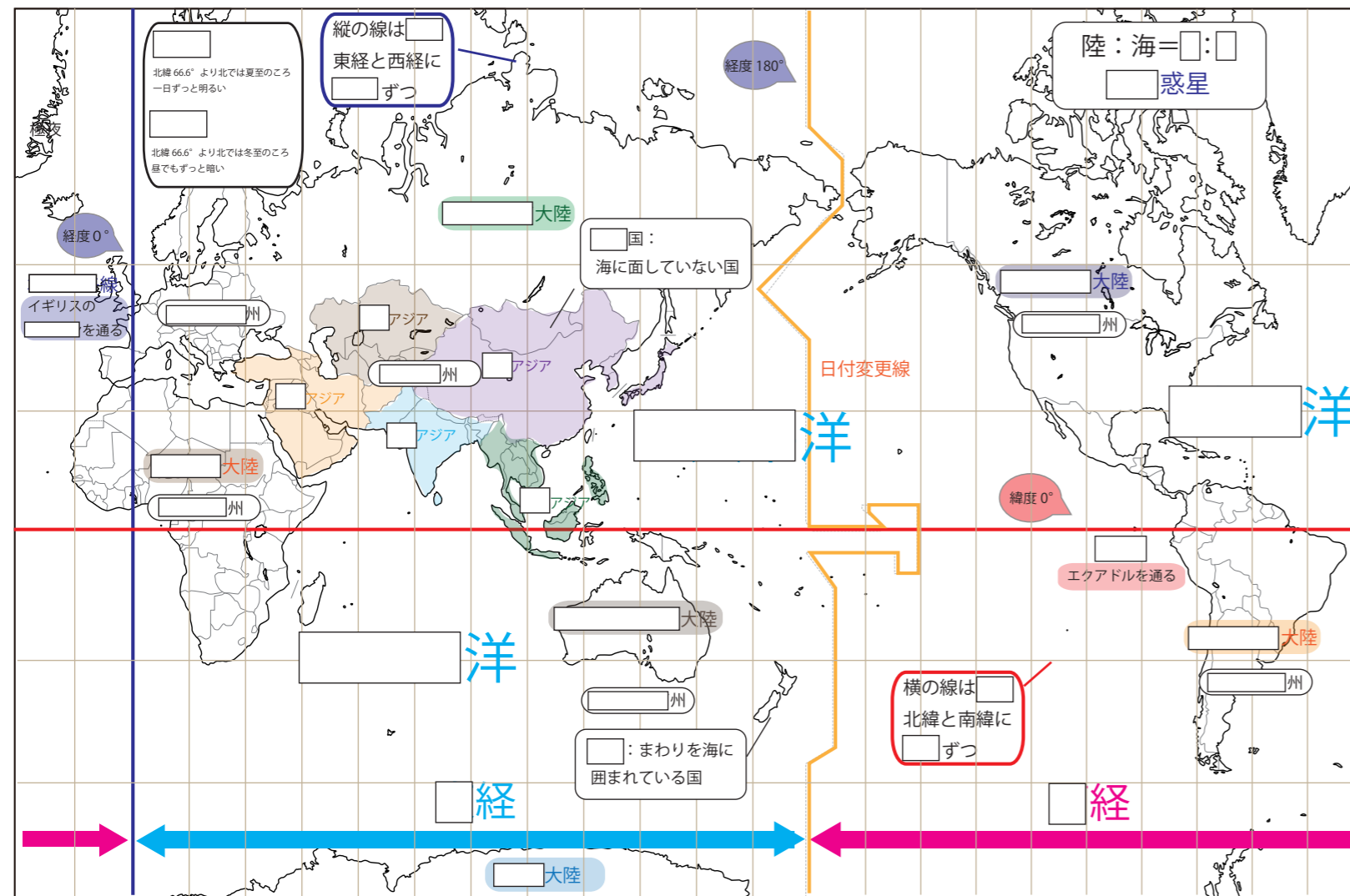
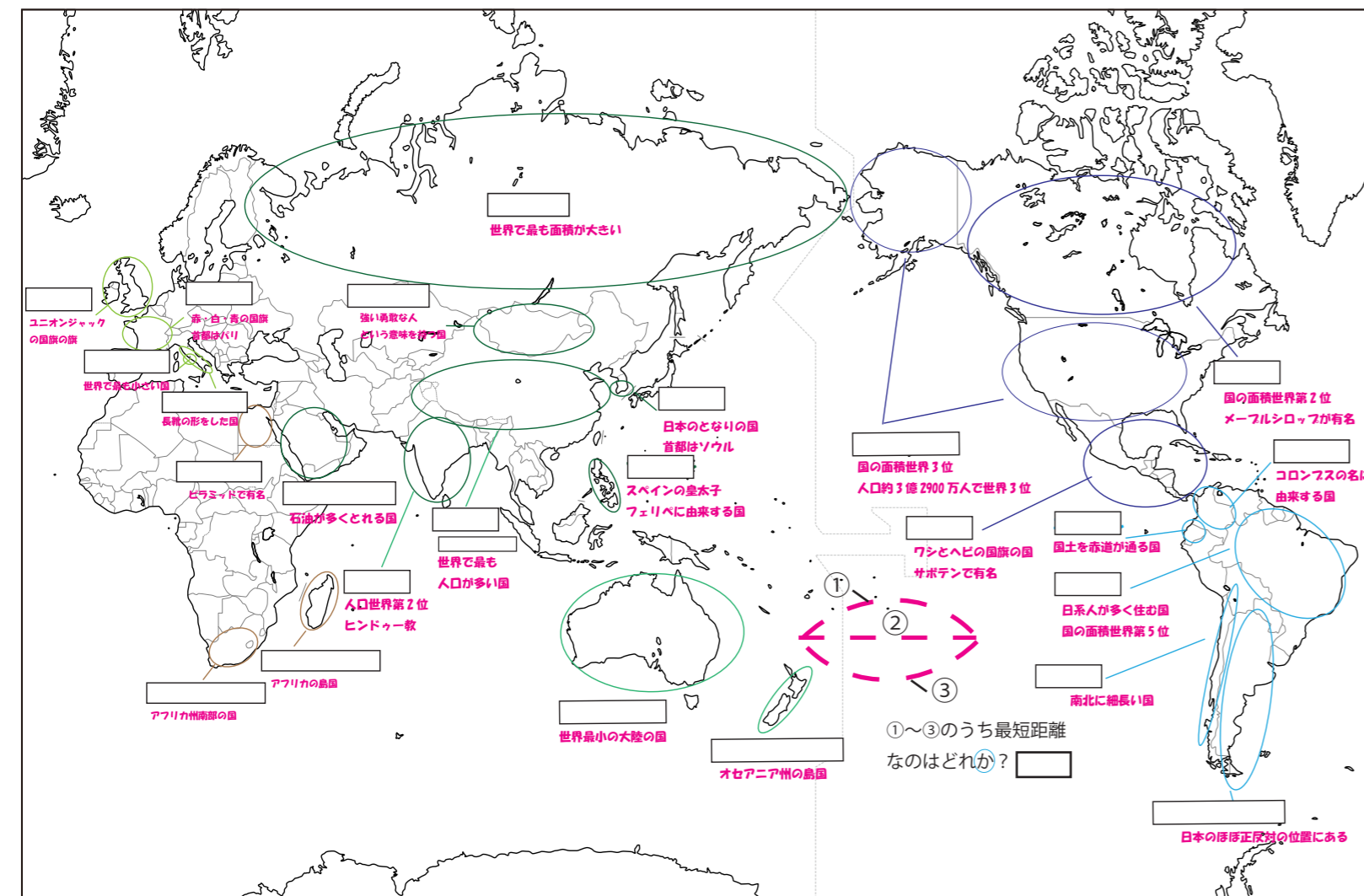


大陸・州・海洋まとめ



国名まとめ



世界地図の図法

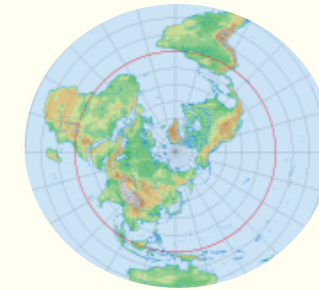


メルカトル図法

経線と緯線が垂直にまじわっている。

□が正しい地図。

航海図に利用



正距方位図法

中心から離れるほどゆがんで表される

中心からの□が正しい地図。

航空図に利用



モルワイデ図法

赤道から離れるほどゆがんで表される

□が正しい地図。

分布図に利用

一問一答

- ①地球上の陸と海の割合は何対何か？
- ②世界最大の大陸を何というか？
- ③世界最小の大陸を何というか？
- ④3つの海洋のうち一番大きいものは何か？
- ⑤まわりを海に囲まれている国を何というか？
- ⑥海に面していない国を何というか？
- ⑦緯度 0° の線を何というか？
- ⑧緯度は⑧を中心に南北にそれぞれ何度に分かれているか？
- ⑨経度 0° の線を何というか？
- ⑩緯度は⑩を中心に東西にそれぞれ何度に分かれているか？
- ⑪同じ緯度を結んだ線を何というか？
- ⑫同じ経度を結んだ線を何というか？