


合わせ鏡にうつる像

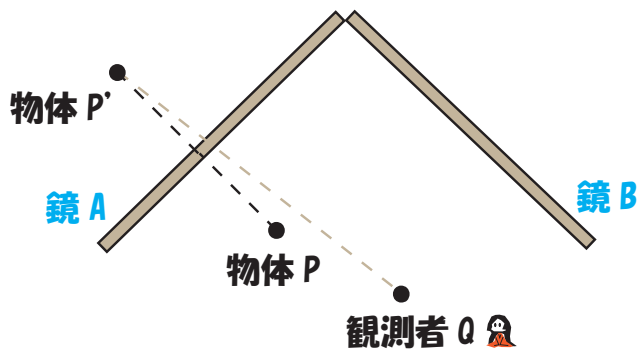
物体 P は観測者 Q からどのように見えるでしょう？

こんな感じに見えるよ



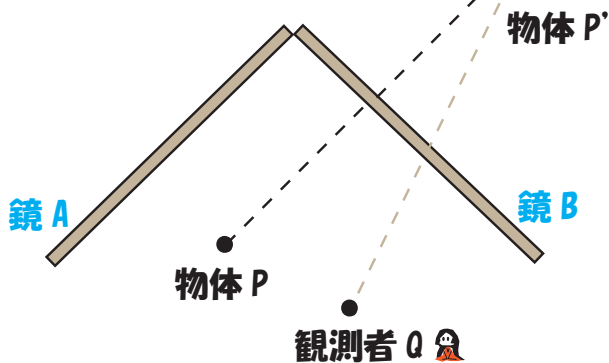
①について

鏡 A に物体 P がうつって見える



②について

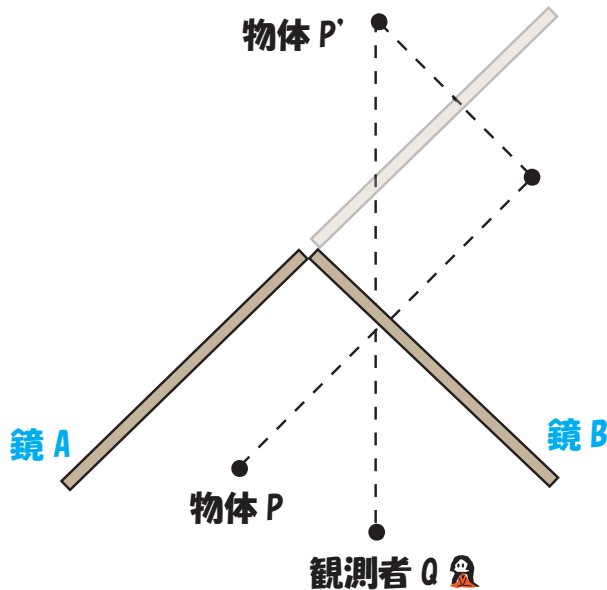
鏡 B に物体 P がうつって見える



③について (この2つは重なる)

“鏡 B にうつった鏡 A”

にうつった物体 P がうつって見える



“鏡 A にうつった鏡 B”

にうつった物体 P がうつる

