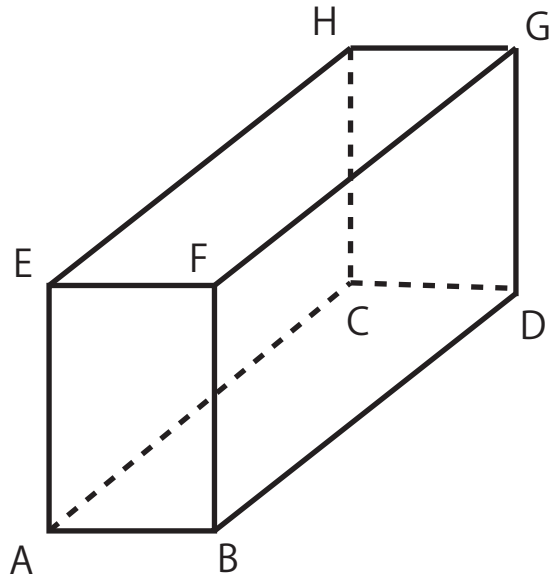


# 直線と平面の位置関係



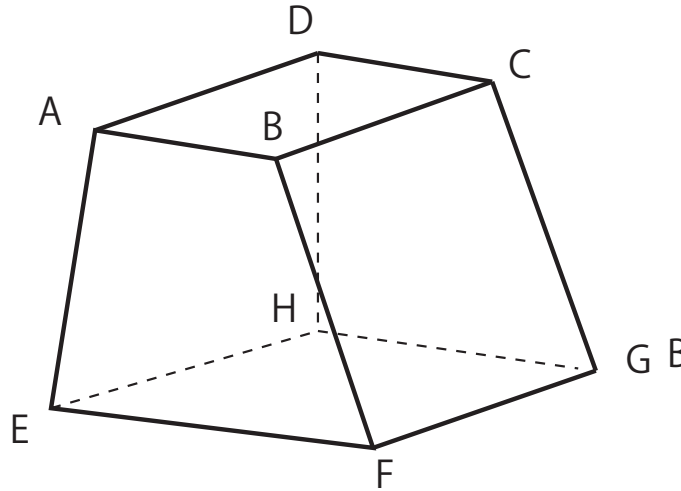
- ①辺 AB と平行な直線
- ②辺 AE と平行な面
- ③面 EFGH と垂直な辺
- ④辺 AC と垂直な面

①

②

③

④



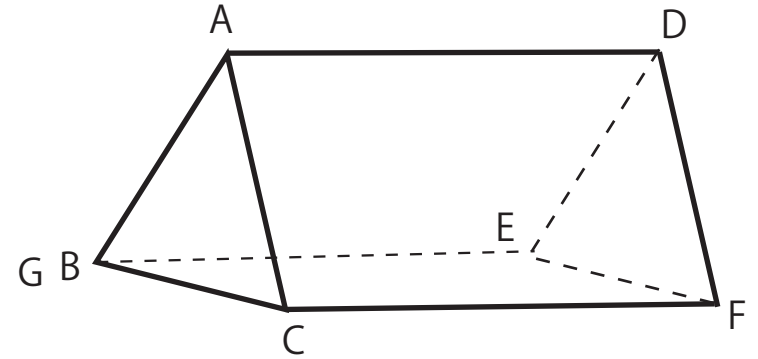
- ①辺 AB と平行な直線
- ②辺 AE とねじれの位置にある辺
- ③面 EFGH と平行な辺
- ④面 ABCD と垂直な面

①

②

③

④



- ①辺 AD と平行な辺
- ②辺 AD とねじれの位置にある辺
- ③面 ABC と平行な面
- ④面 ABC と垂直な面

①

②

③

④