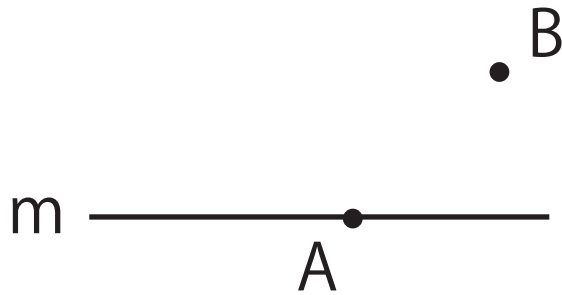
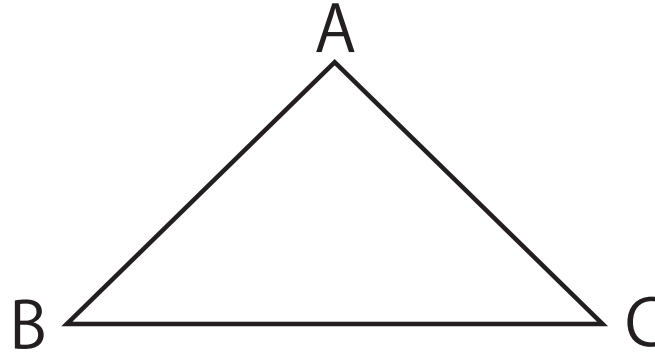


いろいろな作図問題応用編その②

2点 A,B から等しい距離で直線 AP が直線 m の垂線となるような P を作図しましょう



2辺 BA,BC から等しい距離にあり $\angle CBP = \angle BCP$ になるような P を作図しましょう



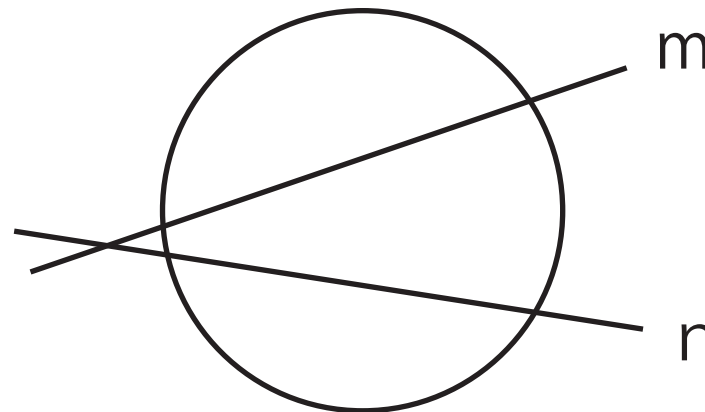
点 A を通り直線 m に平行な線を作図しましょう



$PA \perp AB$ であり $PA = 2AB$ になる点 P を作図しましょう



円周上にあり直線 m,n からともに等しい距離にある点 P を作図しましょう



直線 m を対象の軸として三角形を対象移動した図形を作図しましょう

