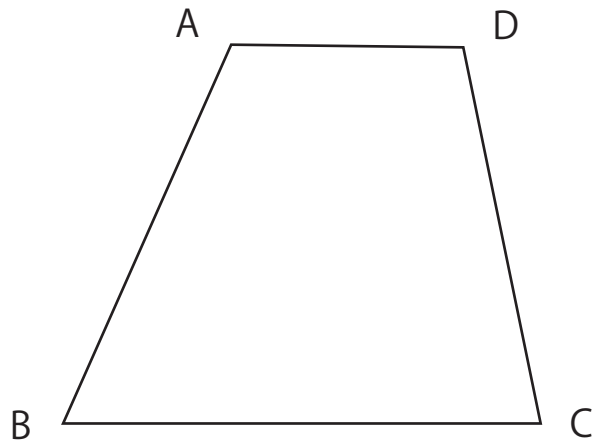
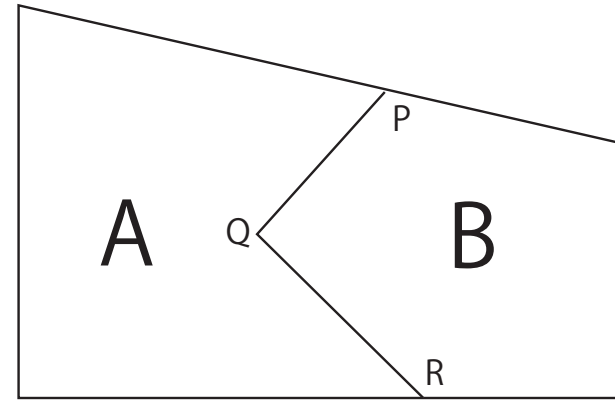



作図応用編その③



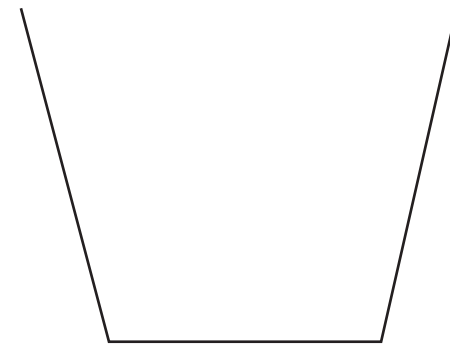
四角形 ABCD と面積の等しい三角形を作図しましょう。



PQR を境界線として土地が A と B に分かれています。
それぞれの土地の面積を変えずに点 P を通る直線で境界線を
引き直しましょう。



円形の一部のかけらがあります。
作図により元の形を復元しましょう。



上のコップのどの線にもぴったりくっつく円を
作図しましょう。