





さいころを くみたてて かんがえましょう。

ひだりの □の くだものが いちばんうえに あります。

いちばんしたに ある くだものは なんでしょう。

みぎの □から えらび いろを めりましょう。



□の くだものが うえにあるとき →の ほうこうにおなじ  
かずだけ かいてんしたとき うえにくる くだものは なんぞ  
すか。

