




































かいてんぱんをつくって かんがえましょう。

ひだりの □の どうぶつが ☆のところに います。
みぎがわの どうぶつは なんの かたちのところに いるかな。
おなじかたちを したの□にかきましょう。

★ 	→	 □	 □	 □
★ 	→	 □	 □	 □
★ 	→	 □	 □	 □
★ 	→	 □	 □	 □

□の どうぶつが ☆のところにあります。やじるしの ほうこ
うに おなじかずだけ うごかしたとき ☆のところにくる どう
ぶつは なにかな。○でかこみましょう。

	↘ ↙	    
	↙ ↘ ↘	    
	↙ ↘ ↙ ↘ ↙	    
	↘ ↘ ↙ ↘ ↘	