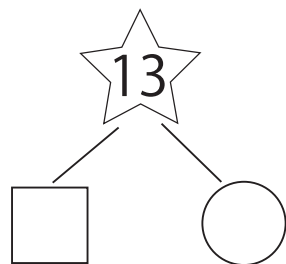
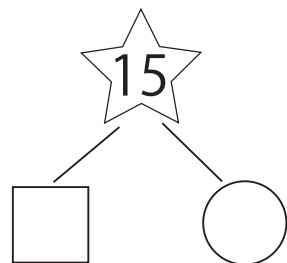


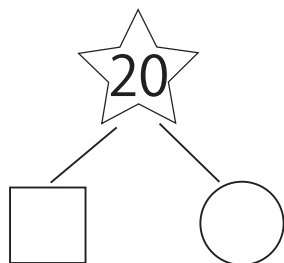
多くわける・少なくわけるの計算



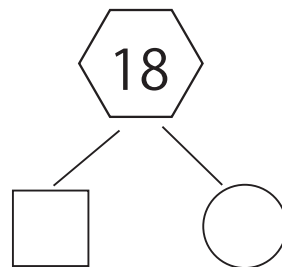
☆に書いてある数を□の数が3多くなるようにわけましょう



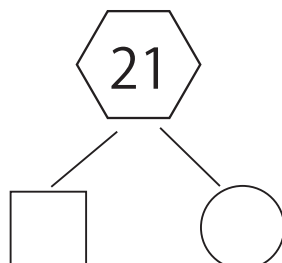
☆に書いてある数を□の数が5多くなるようにわけましょう



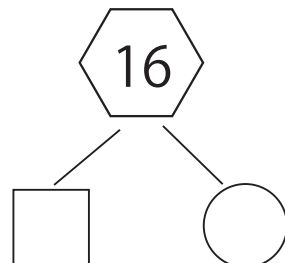
☆に書いてある数を□の数が6多くなるようにわけましょう



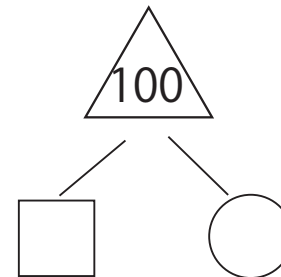
◇に書いてある数を○の数が4少くなるようにわけましょう



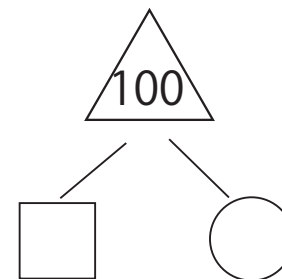
◇に書いてある数を○の数が5少くなるようにわけましょう



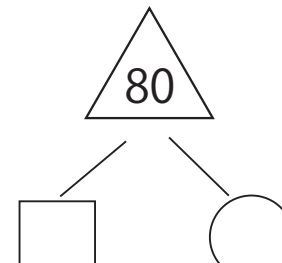
◇に書いてある数を○の数が2少くなるようにわけましょう



△に書いてある数を□の数が20多くなるようにわけましょう



△に書いてある数を□の数が20少くなるようにわけましょう



△に書いてある数を□の数が22多くなるようにわけましょう