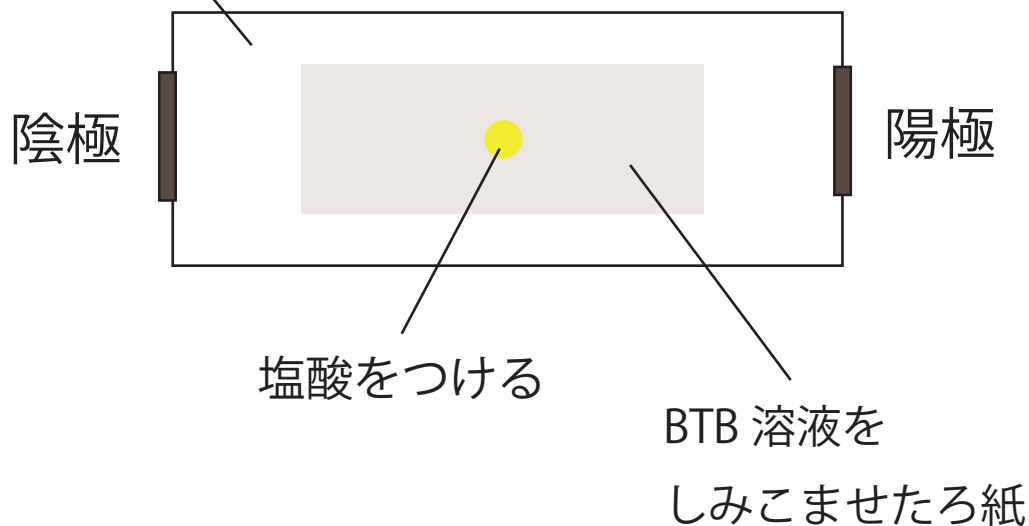


# 酸性・アルカリ性の実験

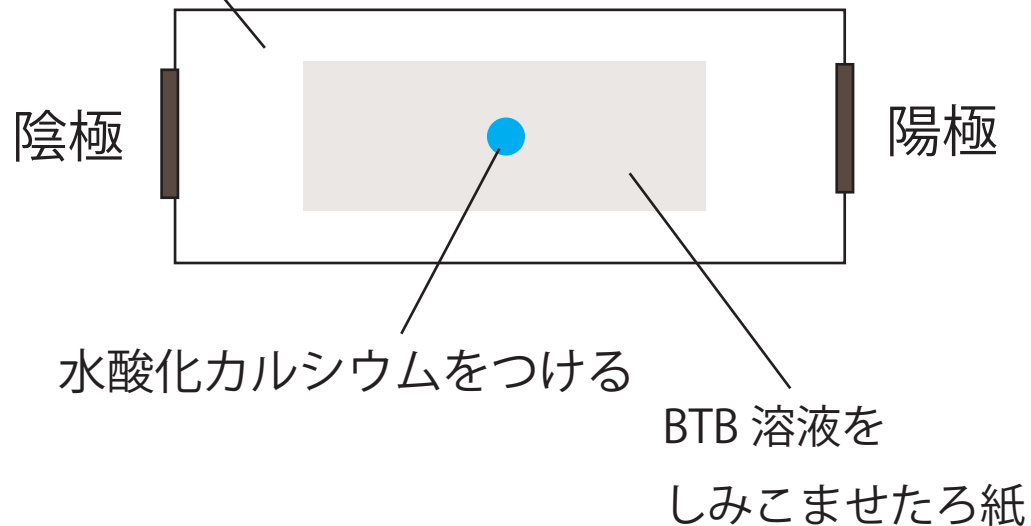
① 塩酸のしみはどちらに移動するでしょう？

塩化ナトリウム水溶液をしみこませたろ紙（電流を流れやすくするため）



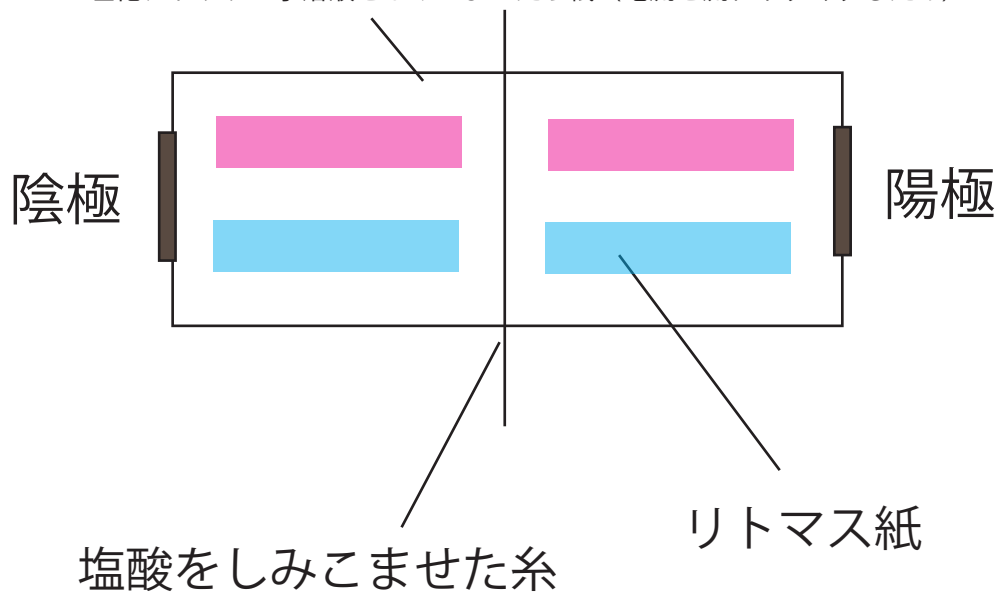
② 水酸化カルシウムのしみはどちらに移動するでしょう？

塩化ナトリウム水溶液をしみこませたろ紙（電流を流れやすくするため）



③ どのリトマス紙が何色に変化するでしょう？

塩化ナトリウム水溶液をしみこませたろ紙（電流を流れやすくするため）



④ どのリトマス紙が何色に変化するでしょう？

塩化ナトリウム水溶液をしみこませたろ紙（電流を流れやすくするため）

