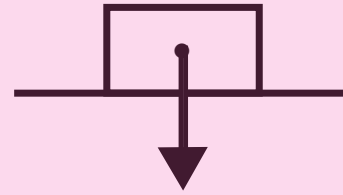
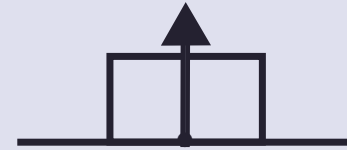


# 力の名前を書きましょう

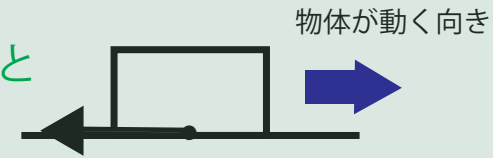
地球がその中心に向かって物体を引く力。



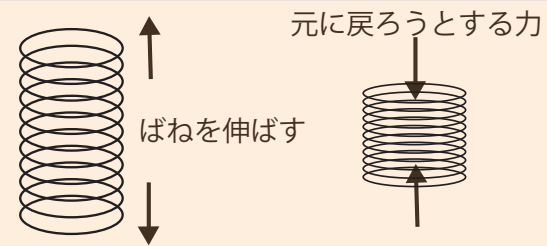
机や床に物体を置いたとき  
それらが物体を押し返す力。



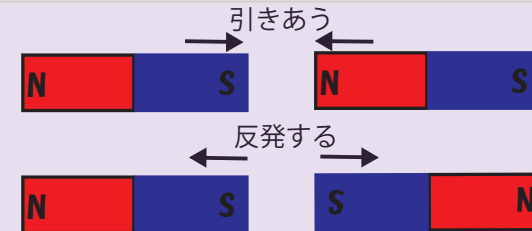
動いている物体に対して動く方向と  
逆向きにはたらく力



変形した物体が元の形に  
戻ろうとする力



磁石によってはたらく力



電気によってはたらく力

