

① 次の数を数字で書きましょう。

七十三億五千二十万

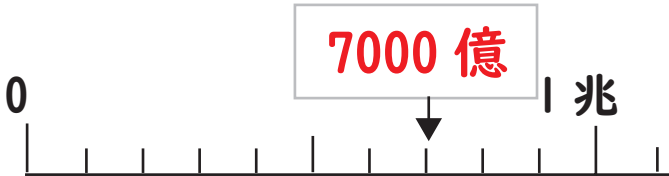
73 5020 0000
億 万

一兆を5こ、一億を890こ

50890 0000 0000
兆 億 万

290億は、10億を **29** こ

② □にあてはまる数や不等号を書きましょう。



182306000 **>** 182300600

③ 0, 1, 2, 3, 4, 5の数字をを使って、一番大きい整数と、一番小さい整数を作りましょう。

一番大きい整数

543210

一番小さい整数

102345

④ もんだいに 答えましょう。

① 次の和と差を求めましょう。

57億と43億

和

100億

差

14億

② 次の積と商を求めましょう。

50億 × 10

積

500億

50億 ÷ 100

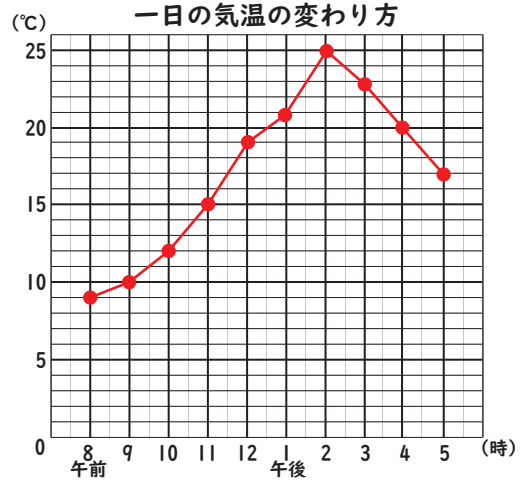
商

5000万

⑤ 気温の変わり方を折れ線グラフに表しましょう。

一日の気温の変わり方

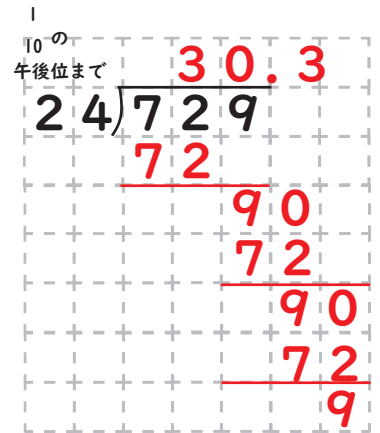
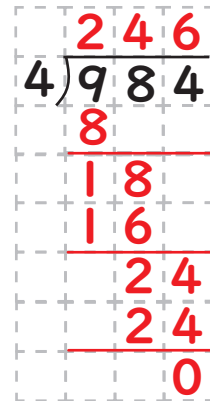
| | | | | | | | | | | |
|----|------|----|----|----|----|------|----|----|----|----|
| 時間 | 午前 8 | 9 | 10 | 11 | 12 | 午後 1 | 2 | 3 | 4 | 5 |
| 気温 | 9 | 10 | 12 | 15 | 19 | 21 | 25 | 23 | 20 | 17 |



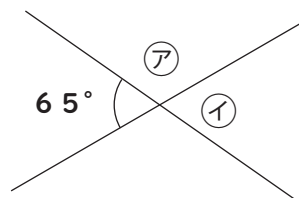
⑥ 計算をしましょう。

61 ÷ 3

800 ÷ 4



⑦ 二本の直線が交わっています。ア、イの角度はなんでしょうか。



ア **115°**

イ **65°**

⑧ 下の図は平行四辺形です。辺アイと平行な辺を答えましょう。

