

① □にあてはまる数を書きましょう。

$9 \times 4 = 4 \times \boxed{9}$      $8 \times 3 = \boxed{3} \times 8$

$(3 \times 3) \times 2 = \boxed{9} \times 2$

$7 \times 8 = \begin{cases} \boxed{5} \times 8 = \boxed{40} \\ \boxed{2} \times 8 = \boxed{16} \end{cases}$  合わせて =  $\boxed{56}$

② 時刻と時間をもとめましょう。

午前7時20分から30分後の時刻。

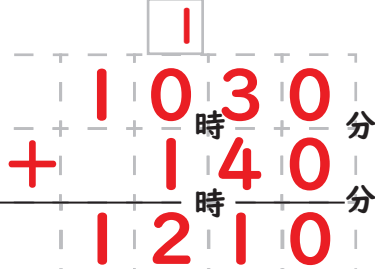
**午前7時50分**

午後4時20分から1時間前の時刻。

**午後3時20分**

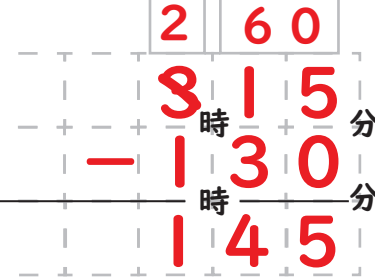
午前10時30分から1時間40分後の時刻。

**午後12時10分**



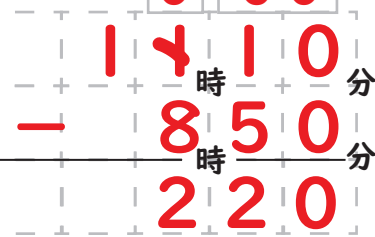
午後3時15分から1時間30分前の時刻。

**午後1時45分**



午前8時50分に出発して、午前11時10分に着きました。出発から着くまでの時間は何時間何分間ですか。

**2時20分間**



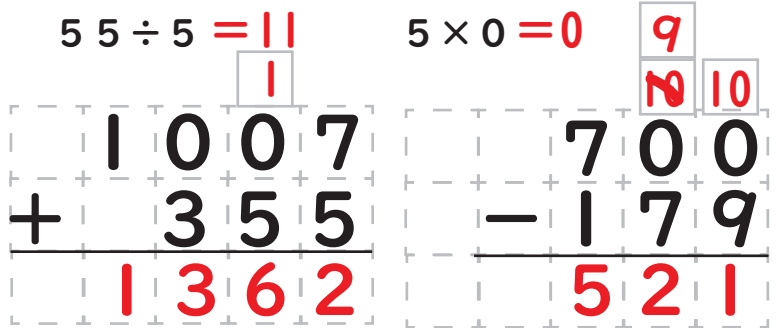
③ 計算を しましょう。

$30 \times 2 = 60$      $6 \div 3 = 2$

$28 \div 4 = 7$      $9 \times 10 = 90$

$55 \div 5 = 11$

$5 \times 0 = 0$



④ もんだいに 答えましょう。

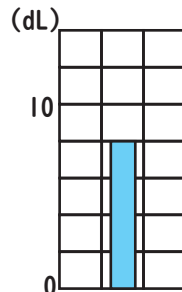
せんべいが29まいあります。7人でわけると、何まいずつ分けられて、何まいあまりますか。

しき  $29 \div 7$

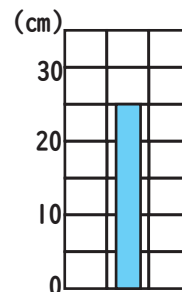
4まいずつ分けら  
こたえて1まいあまる

⑤ もんだいに 答えましょう。

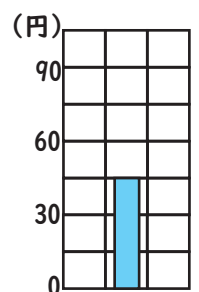
① ぼうグラフはいくつをさしていますか。



**8 dL**



**25 cm**



**45 円**

② 表をかんせいさせ、棒グラフにしましょう。

牧場の生き物調べ

牛	馬	鳥	その他	合計
正正	正正正下	正下	正正正正下	
10	18	9	23	60

牧場の生き物調べ

