
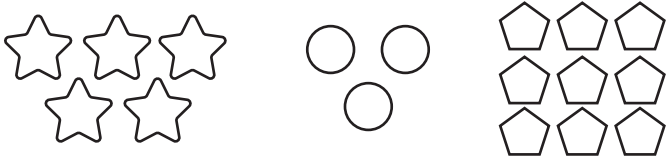



① 0～10までのすうじを かきましょう。



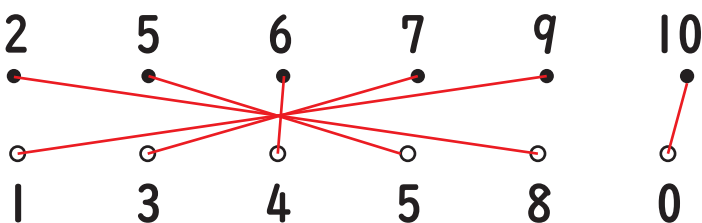
② かぞえて かずを すうじて かきましょう。



③ しかくに あてはまる すうじを かきましょう。



④ 10になる くみあわせを みつけて せんで おすびましょう。



⑤ けいさんを しましょう。

$$4 + 1 = 5 \quad 9 - 2 = 7$$

$$7 - 3 = 4 \quad 5 + 3 = 8$$

$$6 + 0 = 6 \quad 8 - 6 = 2$$

$$5 + 5 = 10 \quad 3 - 2 = 1$$

$$10 - 7 = 3 \quad 7 + 2 = 9$$

⑥ まるで かこみましょう。

まえから3びき。うしろから2ひき。



まえから3ばんめ。うしろから4ばんめ。



⑦ もんだいに こたえましょう。

うさぎは まえから 6ばんめ、ペンギンペンギンは うしろから 8ばんめです。きのうしろに どうぶつは なんひき いるでしょう。



こたえ 2ひき

⑧ もんだいに こたえましょう。

① ゼリーが 6こ あります。2こ たべました。のこりは なんこでしょう。

$$\text{しき } 6 - 2 = 4$$

こたえ 4こ

② そのあと ゼリーが 3こ もらいました。のこりは なんこでしょう。

$$\text{しき } 4 + 3 = 7$$

こたえ 7こ