
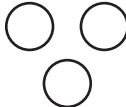
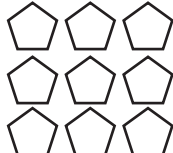


① 0～10までのすうじを かきましょう。

② かぞえて かずを すうじて かきましょう。







③ しかくに あてはまる すうじを かきましょう。

□	2	3	□	5
0	□	4	6	□

3	9	□
---	---	---

1	□	2	□	5	1
---	---	---	---	---	---

④ 10になる くみあわせを みつけて せんで おすびましょう。

2	5	6	7	9	10
•	•	•	•	•	•
○	○	○	○	○	○
1	3	4	5	8	0

⑤ けいさんを しましょう。

$4 + 1$	$9 - 2$
$7 - 3$	$5 + 3$
$6 + 0$	$8 - 6$
$5 + 5$	$3 - 2$
$10 - 7$	$7 + 2$

⑥ まるで かこみましょう。

まえから3びき。うしろから2ひき。



まえから3ばんめ。うしろから4ばんめ。



⑦ もんだいに こたえましょう。

うさぎは まえから 6ばんめ、ペンギン^{ペンギン}は うしろから 8ばんめです。きのうしろに どうぶつは なんひき いるでしょう。



こたえ _____

⑧ もんだいに こたえましょう。

① ゼリー^{ゼリー}が 6こ あります。2こ たべました。のこりは なんこでしょう。

しき

こたえ _____

② そのあと ゼリーが 3こ もらいました。のこりは なんこでしょう。

しき

こたえ _____