

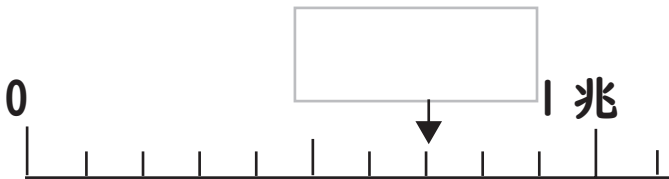
① 次の数を数字で書きましょう。

七十三億五千二十万

一兆を5こ、一億を890こ

290億は、10億を こ

② □にあてはまる数や不等号を書きましょう。



182306000 182300600

③ 0, 1, 2, 3, 4, 5の数字をを使って、一番大きい整数と、一番小さい整数を作りましょう。

一番大きい整数

一番小さい整数

④ もんだいに 答えましょう。

① 次の和と差を求めましょう。

57億と43億

和

差

② 次の積と商を求めましょう。

50億 × 10

積

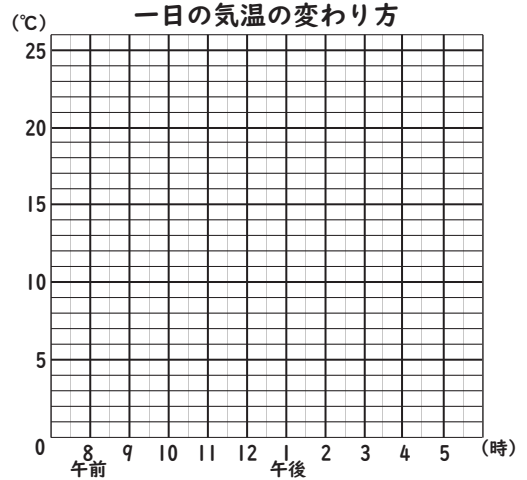
50億 ÷ 100

商

⑤ 気温の変わり方を折れ線グラフに表しましょう。

一日の気温の変わり方

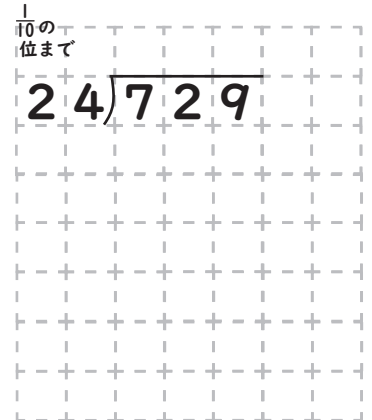
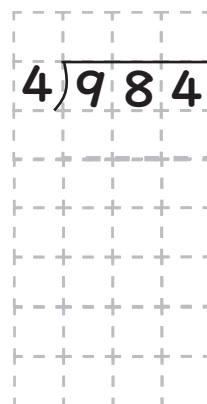
時間	午前 8	9	10	11	12	午後 1	2	3	4	5
気温	9	10	12	15	19	21	25	23	20	17



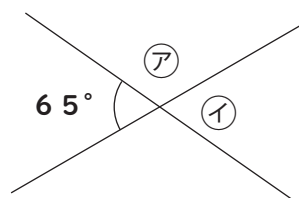
⑥ 計算をしましょう。

$$61 \div 3$$

$$800 \div 4$$



⑦ 二本の直線が交わっています。ア、イの角度はなんでしょうか。



ア

イ

⑧ 下の図は平行四辺形です。辺アイと平行な辺を答えましょう。



こたえ