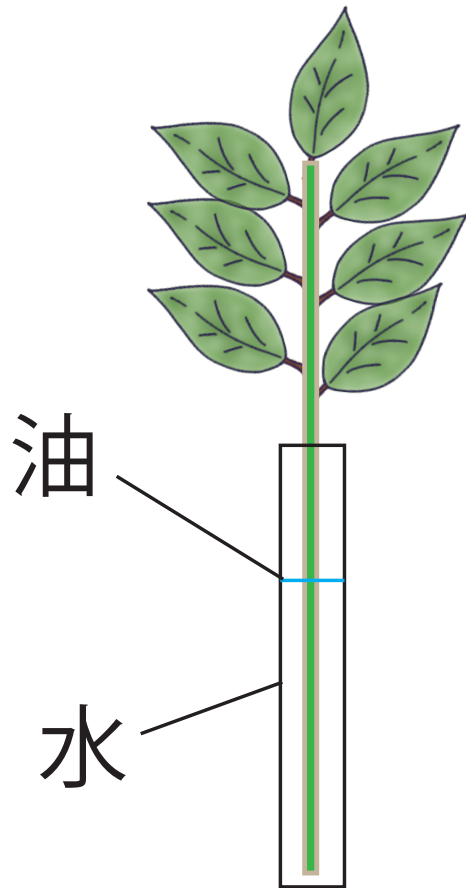


①葉の裏側から蒸散した水の量は何 $\text{cm}^3$ になるでしょう？

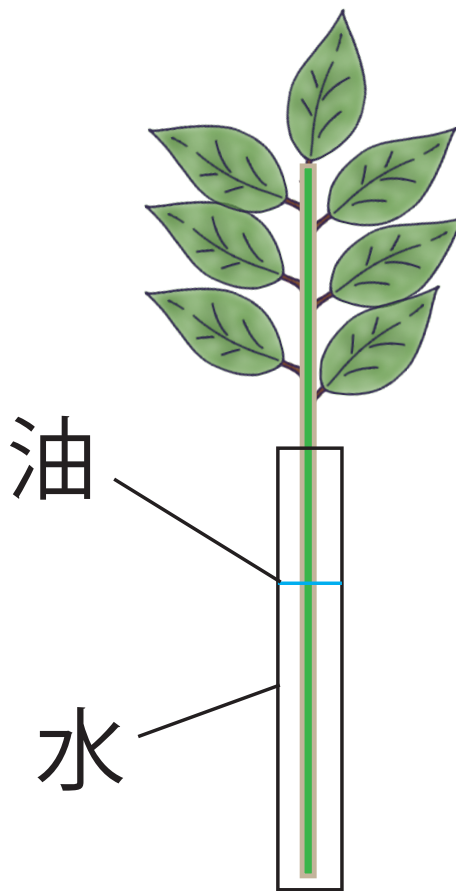
②茎から蒸散した水の量は何 $\text{cm}^3$ になるでしょう？

A 何も処理しない



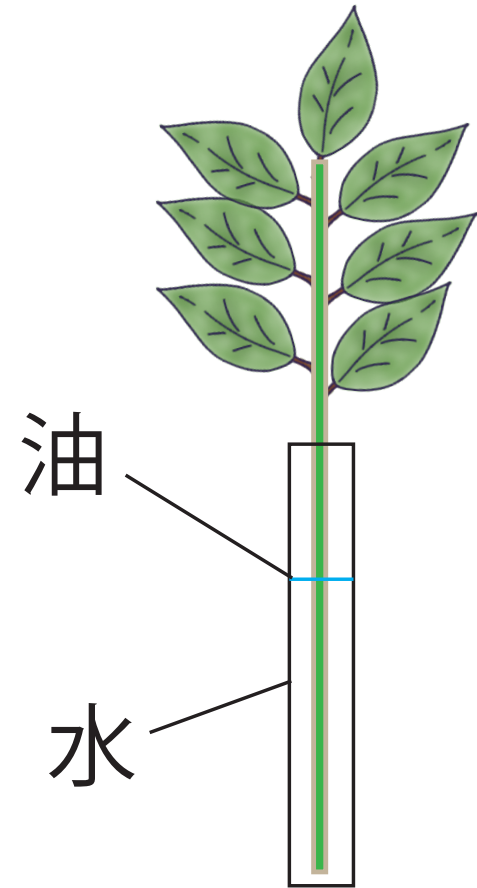
A 水の減少量  $16 \text{ cm}^3$

B 全ての葉の表にワセリンをぬる



B 水の減少量  $12 \text{ cm}^3$

C 全ての葉の裏にワセリンをぬる



C 水の減少量  $6 \text{ cm}^3$